

Matematik

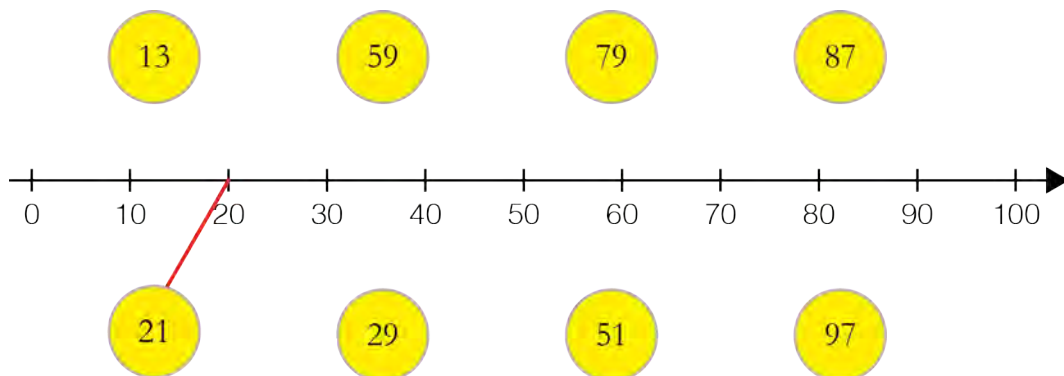
Delprov G

Årskurs

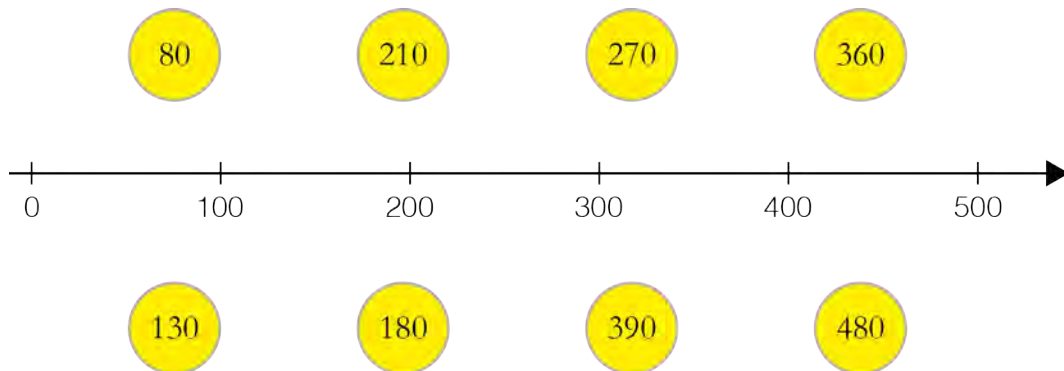
3

Elevens namn och klass/grupp

1. Dra streck till närmaste *tiotal* på tallinjen.



2. Dra streck till närmaste *hundratal* på tallinjen.



3. Ett tal är närmast 70. Ringa in det.


76 71 67

4. Ett tal är närmast 20. Ringa in det.

24 27 18

5. Ett tal är närmast 100. Ringa in det.

97 106 95



6. a) Ungefär hur mycket kostar en *hjälms* och en *flaska* tillsammans?
Ringa in ditt svar.

300 kr 350 kr 400 kr 450 kr 500 kr

- b) Ungefär hur mycket kostar en *pump* och ett *lås* tillsammans?
Ringa in ditt svar.

300 kr 400 kr 500 kr 600 kr 700 kr

- c) Ungefär hur mycket kostar sex *korgar* tillsammans?
Ringa in ditt svar.

450 kr 500 kr 550 kr 600 kr 650 kr

7. a) $200 + 600 = \underline{\hspace{2cm}}$

b) $14 + 7 = \underline{\hspace{2cm}}$

c) $\underline{\hspace{2cm}} = 8 + 9$

d) $12 + 50 = \underline{\hspace{2cm}}$

8. a) $19 - 14 = \underline{\hspace{2cm}}$

b) $101 - 99 = \underline{\hspace{2cm}}$

c) $16 - 8 = \underline{\hspace{2cm}}$

d) $\underline{\hspace{2cm}} = 14 - 5$

9. a) $15 = \underline{\hspace{2cm}} + 8$

b) $7 + 3 = \underline{\hspace{2cm}} + 4$

c) $17 - \underline{\hspace{2cm}} = 10$

d) $12 = \underline{\hspace{2cm}} - 5$